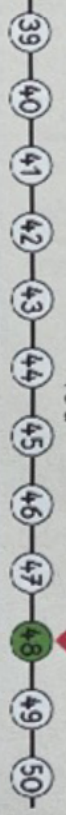


33 Lire et écrire les nombres jusqu'à 59

✓ J'écris les nombres de 40 à 59 de différentes manières.



d	u
4	8

48
40+8
10+10+10-10+8
4d et 8u

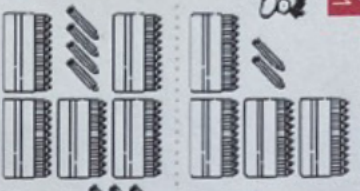


d	u
5	2


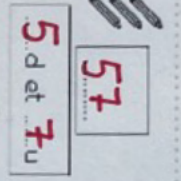
52
50+2
10+10+10+10+10+2
5d et 2u




1 Écris le nombre de crayons.




42
4d et 2u




54
5d et 4u



57
5d et 7u



45
4d et 5u




2 Complète le tableau.

57	10 + 10 + 10 + 10 + 10 + 7	50 + 7
48	10 + 10 + 10 + 10 + 8	40 + 8
42	10 + 10 + 10 + 2	40 + 2
54	10 + 10 + 10 + 10 + 4	50 + 4
50	10 + 10 + 10 + 10	50 + 0
45	10 + 10 + 10 + 5	40 + 5

3 Barre les billets et les pièces de monnaie en trop.

- Piggy bank 1: Price tag 43€, contains 40€ and 3 coins. One coin is crossed out.
- Piggy bank 2: Price tag 47€, contains 40€ and 7 coins. One coin is crossed out.
- Piggy bank 3: Price tag 56€, contains 50€ and 6 coins. One coin is crossed out.
- Piggy bank 4: Price tag 43€, contains 40€ and 3 coins. One coin is crossed out.
- Piggy bank 5: Price tag 40€, contains 40€ and 4 coins. All coins are crossed out.
- Piggy bank 6: Price tag 52€, contains 50€ and 2 coins. One coin is crossed out.

Trace à main levée.



34 Comparer et ranger les nombres jusqu'à 59

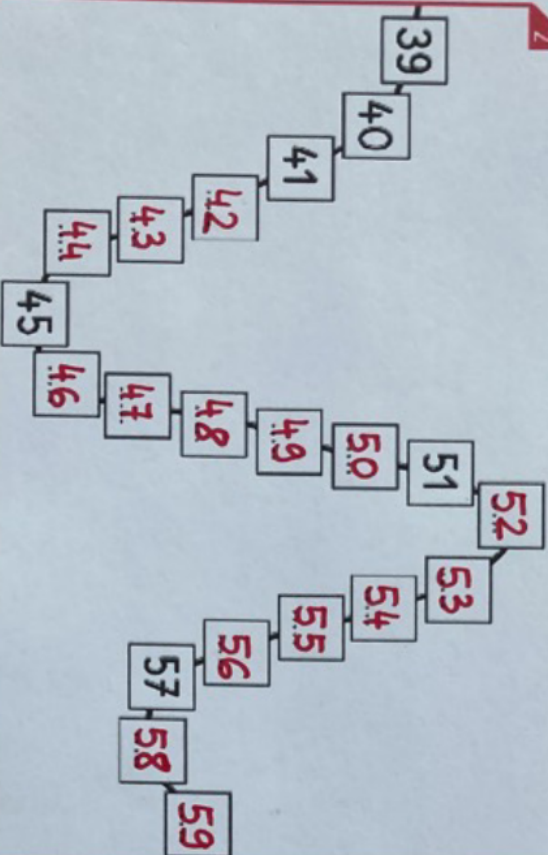
✓ Je sais ranger les nombres jusqu'à 59.

1 Range les nombres du plus petit au plus grand.



54 ~~45~~ 49 51
 45... 49... 51... 54...

2 Complète la suite des nombres.

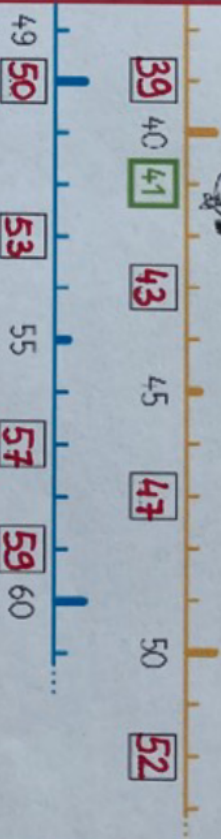


3 Écris le nombre qui vient juste avant et le nombre qui vient juste après.

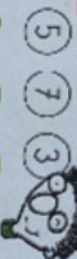


44	45	46	50	51	52	55	56	57
57	58	59	39	40	41	42	43	44
40	41	42	38	39	40	49	50	51

4 Écris les nombres qui manquent dans les étiquettes.



5 Range les nombres du plus petit au plus grand.



5	7	3	28	41	34	52	36	45
3 < 5 < 7	28 < 34 < 41	36 < 45 < 52	48	54	42	48	27	51
42 < 48 < 54	27 < 38 < 48 < 51	38 < 46 < 49 < 51	49	46	51	38		

Trace avec la règle.

